



CAREER CENTRE THE PATH TO SUCCESS

QUEST PAPER WEEKLY CLASS TEST_2407

Website- www.careercentre360.com

Email- apanacareerssm@gmail.com

MOB 9430206005

1. सामान्य रूप से प्रयुक्त किया जाने वाला कंप्यूटर है?

- (A) डिजिटल कंप्यूटर (B) ऑप्टिकल
कंप्यूटर (C) हाइब्रिड कंप्यूटर (D) एनालॉग
कंप्यूटर

Answer: a

2. फ्लॉपी डिस्क किस प्रकार की मेमोरी से संबंध रखती है?

- (A) एक्सटर्नल (B) इंटरनल (C)
वोलाटाइल (D) A और B

Answer: a

3. रिबूट की शॉटकट कुंजी क्या है?

- (A) Ctrl + Alt + Del (B) Ctrl + B + T
(C) Ctrl + X (D) Ctrl + C

Answer: a

4. सातवीं पंचवर्षीय योजना का प्रारूप तैयार करने का श्रेय किसे जाता है?

- (A) वी.पी.सिंह (B) रामकृष्ण हेगड़े (C)
मधुलिमये (D) चन्द्रशेखर

Answer: b

5. निम्न में से कोन सा भाग भारत के सकल घरेलू उत्पाद को

सर्वाधिक योगदान देता है ?

- (A) प्राथमिक (B) द्वितीयक भाग
(C) तृतीयक भाग
(D) येसभी

Answer: c

6. चन्द्रशेखरन समिति किससे सम्बन्धित है ?

(A) अन्तरिक्ष अभियान से

(B) शेयरों से

(C) राजस्व से

(D) शिक्षा से

Answer: b

7. एशियन ड्रामा किसकी प्रसिद्ध पुस्तक के लेखक कोन है?

(A) बी.एस. मिन्हास

(B) जे.एम्. कीन्स

(C) गुन्नार मिर्डल

(D) डेविड

Answer: c

8. रॉकीज किस प्रकार के पर्वत का उदाहरण है-

(A) संचित पर्वत

(B) अवशिष्ट पर्वत

(C) वलित पर्वत

(D) ब्लॉक पर्वत

Answer: C

9. इनमें से रबी की फसल कौन है -

(A) धान

(B) बाजरा

(C) मक्का

(D) गेहूँ

Answer: D

10. उतरी गोलार्ध में सबसे बड़ा दिन कब होता है-

(कर्क सक्रांति)-

The Path to Success

CAREER CENTRE

DISCIPLINE

SACRIFICE

THE PATH TO SUCCESS

THE PATH TO SUCCESS

PASSION

CONFIDENCE

FOCUS

FOR

SSC RAILWAY BANKING

Darmshala Road, Sasaram - 821115

9430206005

- (A) 22 सितम्बर
(B) 21 जून
(C) 22 दिसम्बर
(D) 21 मार्च

Answer: B

11. विश्व की सबसे बड़ी झील कौन है -

- (A) सुपीरियर झील
(B) बैकाल झील
(C) कैस्पियन सागर
(D) पैगांग झील

Answer: C

12. कल्हण द्वारा रचित पुस्तक है-

- (A) अर्थशास्त्र
(B) चचनामा
(C) राजतरंगिणी
(D) अष्टाध्यायी

Answer: C

13. सविनय अवज्ञा आंदोलन कब शुरू हुई थी

- (A) 1942 ई०
(B) 1932 ई०
(C) 1930 ई०
(D) 1922 ई०

Answer: C

14. "आना" सिक्के का प्रचलन किसके द्वारा किया गया -

- (A) अकबर
(B) बाबर
(C) जहाँगीर
(D) शाहजहाँ

Answer: D

15. 1857 ई० की क्रांति के समय दिल्ली से

भारतीय नायक कौन थे-

- (A) नाना साहब
(B) लियाकत अली
(C) बहादुरशाह जफर, बख्त ख़ाँ
(D) खान बहादुर ख़ाँ

Answer: C

16. कविगुरु के नाम से किन्हीं जाना जाता है-

- (A) रवीन्द्र नाथ टैगोर
(B) चितरंजन दास
(C) अनुग्रह नारायण सिंह
(D) पं०मदनमोहन मालवीय

Answer: a

17. निर्मल हृदय के नाम से किन्हीं जाना जाता है

- (A) सिस्टर निवेदिता
(B) मदर टेरेसा
(C) एनी बेसेंट
(D) सिस्टर निर्मला

Answer: b

18. संयुक्त राष्ट्र संघ में कौन सा देश स्थायी सदस्य नहीं है-

- (A) रूस
(B) अमेरिका

- (C) ब्रिटेन
(D) ऑस्ट्रेलिया

Answer: d

19. भरतनाट्यम् किस राज्य का लोकनृत्य है-

- (A) कर्नाटक
(B) आंध्रप्रदेश
(C) केरल
(D) तमिलनाडु

The Path to Success
CAREER
CENTRE

DISCIPLINE

THE PATH TO SUCCESS
TO THE PATH

CONFIDENCE

FOR

RAILWAY
BANKING

Dharmshaha Road, Sasaram - 821115

www.careercentre360.com

9130206005

Answer: d
20. किसके कारण व्यक्ति न तो दूर की वस्तु और न ही निकट का ही वस्तु देख पाता है -

- (A) दूर दृष्टि दोष
- (B) निकट दृष्टि दोष
- (C) अंबिंदुकता
- (D) जरा दृष्टि दोष

Answer: D
21. पृथ्वी के घूर्णन गति बढ़ने पर "g" का मान क्या होता है -

- (A) बढ़ेगा
- (B) घटेगा
- (C) शून्य हो जाएगा
- (D) अपरिवर्तित रहेगा

Answer: B
22. LAN का पूरा नाम क्या है -

- (A) Language Area Network
- (B) Local Area Network
- (C) Line Area Network
- (D) Low Area Network

Answer: B
23. आवृत्ति का S.I. मात्रक क्या है-

- (A) पास्कल
- (B) रेडियन
- (C) हर्ट्ज
- (D) कैण्डेला

Answer: C
24. संविधान के किस अनुच्छेद के तहत सर्वोच्च न्यायालय को अभिलेख न्यायालय का स्थान प्रदान करता है-

- (A) अनु 032
- (B) अनु 0129
- (C) अनु 0124
- (D) अनु 0137

Answer: b
25. पहली बार मुस्लिम समुदाय के लिए पृथक प्रतिनिधित्व का उपबंध किया गया-

- (A) 1973 ई0 का रेग्यूलेटिंग एक्ट
- (B) 1909 ई0 का मार्ले-मिंटो सुधार
- (C) 1919 ई0 का माण्टेग्यू-चेम्सफोर्ड सुधार
- (D) 1948 ई0 का पिट्स इंडिया एक्ट

Answer: b
26. Select the most appropriate ANTONYM of the given word.
Persist

- (A) Discontinue
- (B) Convince
- (C) Enable
- (D) Incline

Answer: A
27. Select the most appropriate ANTONYM of the given word .
Specific

- (A) General
- (B) Exact
- (C) Limited
- (D) Different

Answer: A
28. Select the most appropriate ANTONYM of the given word.
Allure

- (A) Charm
- (B) Repulsion
- (C) Appeal
- (D) magic

Answer: B
29. Select the INCORRECTLY spelt word.

- (A) Prosperous
- (B) Sumptuous
- (C) pompous
- (D) Pretious

Answer: D

30. Select the most appropriate ANTONYM of the given word.

REMEMBER

- (A) Learn
- (B) Forget
- (C) Memories
- (D) Retain

Answer: B

31. Select the most appropriate meaning of the given idiom .

Tickled pink

- (A) Very pleased
- (B) Easily teased
- (C) very sensitive
- (D) Fond of pink

Answer: A

32. Select the most appropriate meaning of the given idiom .

Down in the dumps

- (A) In a very happy mood
- (B) in a high spirit
- (C) In a state of fury
- (D) In a depressed state of mind

Answer: D

33. Select the most appropriate meaning of the given idiom.

Hold your horses

- (A) Run fast
- (B) Be patient
- (C) Take control
- (D) Make a profit

Answer: B

34. Select the most appropriate meaning of the given idiom.

Big bucks

- (A) A big loss
- (B) A big bucket
- (C) A big function
- (D) A lot of money

Answer: D

35. Select the most appropriate meaning of the given idiom.

To kick the bucket

- (A) To die
- (B) To play
- (C) To fight
- (D) To lose

Answer: A

36. Select the option that can be used as a one - word substitute for the given group of words.

One who collects coins

- (A) Anthropologist
- (B) Numismatist
- (C) Philatelist
- (D) Fatalist

Answer: B

37. Select the option that can be used as a one - word substitute for the given group of words.

Delay an event to a later date or time

- (A) postpone
- (B) Preserve
- (C) Propone
- (D) Persevere

Answer: A

38. Select the that can be used as a one - word substitute for the give group of words .

Something that can be carried easily

- (A) Deliverable
- (B) Transferable
- (C) Plausible
- (D) Portable

The Path to Success
CAREER
CENTRE

DISCIPLINE

SACRIFICE

THE PATH TO SUCCESS

LABOUR

PASSION

CONFIDENCE

FOCUS

FOR

SSC RAILWAY
BANKING

Dharmshala Road, Sasaram 821115

www.careercentre360.com

9430206005

Skip

Answer: D

39. Select the option that can be used as a one-word substitution for the given group of words. Comparison between things that have similar features

- (A) Resemblance
- (B) Contrast
- (C) Analogy
- (D) Description

Answer: C

40. Select the option that can be used as a one-word substitute for the given group of words.

Handwritten book

- (A) Outline
- (B) Draft
- (C) Edition
- (D) Manuscript

Answer: D

41. Select the most appropriate synonym for the underlined word in the given sentence. The wily Jerry mouse very deftly removed the cheese from the trap.

- (A) wise
- (B) worn
- (C) crafty
- (D) worrisome

Answer: c

42. Which of the following options is most similar in meaning to the given word?

Laudable

- (A) Sensible
- (B) Returnable
- (C) Preventable
- (D) Praiseworthy

Answer: d

43. Select the word similar in meaning to the given word.

- (A) Notice
- (B) Insert
- (C) Overlook
- (D) Introduce

Answer: C

44. Select the most appropriate ANTONYM of the given word.

Follow

- (A) Trail
- (B) Lead
- (C) Show
- (D) Heed

Answer: b

45. Select the most appropriate synonym of the given word.

Frantic

- (A) Loyal
- (B) Lazy
- (C) Gentle
- (D) Violent

Answer: d

46. Select the INCORRECTLY spelt word.

- (A) player
- (B) ideal
- (C) Aristocret
- (D) Filling

Answer: C

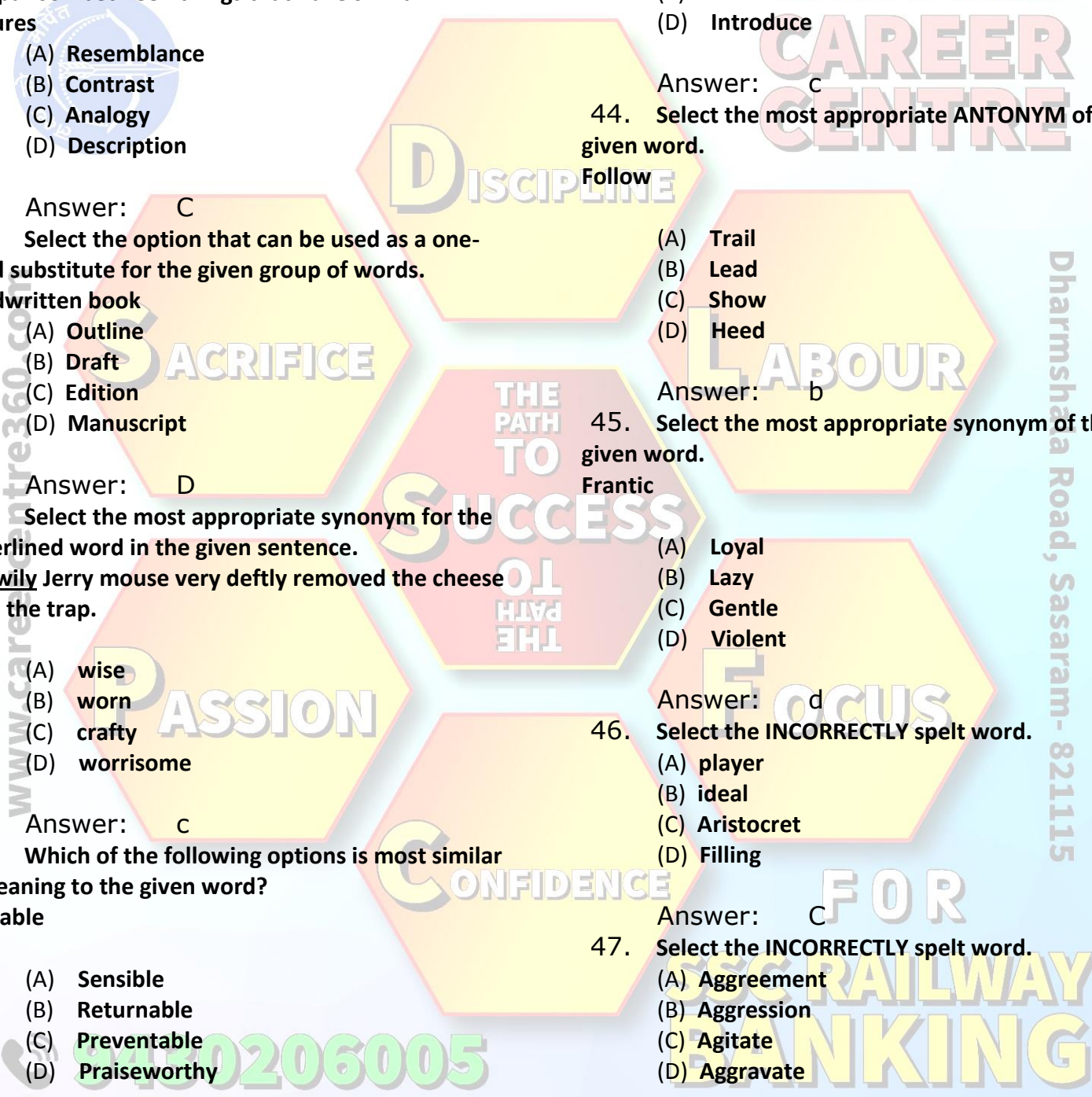
47. Select the INCORRECTLY spelt word.

- (A) Aggreement
- (B) Aggression
- (C) Agitate
- (D) Aggravate

Answer: A

48. Select the incorrectly spelt word.

- (A) Discipline



- (B) Guidance
- (C) Guarantee
- (D) Appreciate

Answer: B

49. Select the INCORRECTLY spelt word.

- (A) Substitution
- (B) Habbitation
- (C) Estimation
- (D) Presentation

Answer: B

50. Select the correctly spelt word.

- (A) Spacifying
- (B) Specifing
- (C) Specifying
- (D) Specfyng

Answer: C

51. तीन अलग-अलग सिग्नल स्थानों पर ट्रैफिक लाइटें क्रमशः प्रत्येक 35s, 45s और 75s में बदलती हैं। यदि सभी ट्रैफिक लाइटें 6:20:15 बजे एक साथ बदलती हैं, तो अगली बार कितने बजे वे एक साथ बदलेंगी?

- (A) 10 : 30 : 30
- (B) 8 : 18 : 20
- (C) 6 : 46 : 30
- (D) 6 : 40 : 35

Answer: C

52. 7 का वह लघुत्तम गुणज ज्ञात कीजिए, जिसे 6, 8 और 12 से विभाजित किए जाने पर 1 शेष बचता हो।

- (A) 25
- (B) 73
- (C) 169
- (D) 49

Answer: D

53. दो धनात्मक संख्याओं का अनुपात 7 : 9 है और उनके लघुत्तम समापवर्त्य (LCM) और महत्तम समापवर्तक (HCF) का गुणनफल 25200 है। संख्याओं का योग ज्ञात कीजिए।

- (A) 400
- (B) 320
- (C) 140
- (D) 256

Answer: B

54. 48, 36, 72 और 24 का म.स.प. (HCF), इनके ल.स.प. (LCM) में कितनी बार शामिल होगा?

- (A) 12
- (B) 10
- (C) 18
- (D) 15

Answer: A

55. एक संख्या का $\frac{3}{5}$ भाग, दूसरी संख्या के आधे से 10 अधिक है। यदि पहली संख्या के $\frac{3}{7}$ भाग से 8 घटाया जाता है, तो प्राप्त संख्या, दूसरी संख्या के आधे से 4 कम होती है। दोनों संख्याओं का योग ज्ञात कीजिए।

- (A) 56
- (B) 57
- (C) 54
- (D) 55

Answer: B

56. 3, 5, 0, 6 अंकों का प्रयोग करते हुए बनने वाली चार अंकों की सबसे छोटी संख्या कौन-सी है?

- (A) 0356
- (B) 3056
- (C) 0536
- (D) 3506

Answer: B

57. जब पूर्णांक n को 9 से विभाजित किया जाता है, तो शेषफल 4 बचता है। यदि 12n को 9 से विभाजित किया जाए तो शेषफल कितना बचेगा?

- (A) 2
- (B) 3
- (C) 5
- (D) 4

- Answer: B
58. आप 3.33 घंटे को घंटे, मिनट और सेकंड में कैसे लिखेंगे?
 (A) 3 घंटे, 30 मिनट, 30 सेकंड
 (B) 3 घंटे, 33 मिनट
 (C) 3 घंटे, 30 मिनट, 3 सेकंड
 (D) 3 घंटे, 19 मिनट, 48 सेकंड

- Answer: D
59. 19^{300} को 20 से विभाजित करने पर शेषफल कितना प्राप्त होगा?
 (A) 2
 (B) 1
 (C) 3
 (D) 4

- Answer: B
60. 56789214 में 5 का स्थानीय मान क्या है?
 (A) 5×10^6
 (B) 5×10^4
 (C) 5×10^7
 (D) 5×10^5

- Answer: C
61. सात अंकों वाली संख्या 67843A2, 11 से विभाज्य है, जहां A एक अंक वाली पूर्ण संख्या है। A का मान ज्ञात कीजिए।
 (A) 0
 (B) 8
 (C) 6
 (D) 7

- Answer: B
62. यदि सचिन की आय, सोहन की आय से $\frac{50}{7}\%$ अधिक है, तो सोहन की आय, सचिन की आय से लगभग कितने प्रतिशत कम है?
 (A) 6.67%
 (B) 8.67%
 (C) 5.67%
 (D) 7.67%

- Answer: A
63. यदि A का मान B से 70% अधिक है, तो B का मान A से

कितने प्रतिशत कम है?

- (A) 58 $\frac{14}{17}$
 (B) 41 $\frac{3}{17}$
 (C) 38 $\frac{4}{17}$
 (D) 37 $\frac{1}{17}$

- Answer: B
64. किसी परीक्षा में उत्तीर्ण होने के लिए पूर्णांक के 33% के बराबर अंक प्राप्त करना आवश्यक हैं। एक छात्र को 130 अंक प्राप्त हुए और उसे 35 अंकों से अनुत्तीर्ण घोषित किया गया। परीक्षा का पूर्णांक ज्ञात कीजिए।
 (A) 500
 (B) 600
 (C) 300
 (D) 550

- Answer: A
65. यदि x का 60%, 60 में जोड़ा जाता है, तो परिणाम x + 20 मिलता है। संख्या x का मान ज्ञात कीजिए।
 (A) 80
 (B) 100
 (C) 70
 (D) 90

- Answer: B
66. किसी परीक्षा में जैक को 45% अंक प्राप्त हुए और वह 18 अंकों से अनुत्तीर्ण हुआ। यदि वह 65% अंक प्राप्त करता, तो उसे परीक्षा उत्तीर्ण करने के लिए आवश्यक न्यूनतम अंकों से 6 अंक अधिक प्राप्त होते। उस परीक्षा में कोई भी अधिकतम कितने अंक प्राप्त कर सकता था?
 (A) 130
 (B) 120
 (C) 140
 (D) 80

- Answer: B
67. अमित अपनी आय का 20% बचाता है। यदि उसकी आय में

38% की वृद्धि और व्यय में 60% की वृद्धि हो जाती है, तो उसकी बचत में कितने प्रतिशत की वृद्धि/कमी होगी?

- (A) 22% (वृद्धि)
- (B) 50% (वृद्धि)
- (C) 50% (कमी)
- (D) 100% (कमी)

Answer: C

68. अनु अपनी आय का 80% खर्च करता है। यदि उसकी आय में 12% की वृद्धि होती है और बचत में 10% की कमी होती है, तो खर्च में कितने प्रतिशत की वृद्धि हुई?

- (A) 17.5%
- (B) 12.5%
- (C) 18%
- (D) 15%

Answer: A

69. एक परीक्षा में विनोद ने 25% अंक प्राप्त किए और 10 अंकों से अनुत्तीर्ण हो गया। सचिन ने परीक्षा में 30% अंक प्राप्त किए जो कि उत्तीर्णांक से 20 अंक अधिक है। परीक्षा के पूर्णांक ज्ञात करें।

- (A) 750
- (B) 600
- (C) 800
- (D) 500

Answer: B

70. एक व्यक्ति अपनी आय का 35% भोजन पर और 55% कपड़ों पर खर्च करता है यदि उसके पास अभी भी रु400 शेष है, तो उसकी कुल आय क्या है

- (A) 3000
- (B) 4000
- (C) 5000
- (D) 4500

Answer: b

71. यदि एक आयत की लंबाई में 40% की वृद्धि होती है, तो क्षेत्रफल को समान बनाए रखने के लिए इसकी चौड़ाई में कितने

प्रतिशत की कमी करनी पड़ेगी (दशमलव के एक स्थान तक सही)?

- (A) 42.5%
- (B) 33.5%
- (C) 37.5%
- (D) 28.6%

Answer: D

72. यदि किसी वृत्त की त्रिज्या में 23% की वृद्धि की जाती है, तो उसके क्षेत्रफल में कितने प्रतिशत की वृद्धि होगी?

- (A) 41.61%
- (B) 27.89%
- (C) 32.85%
- (D) 51.29%

Answer: D

73. यदि किसी वर्ग की भुजा में 40% की वृद्धि होती है, तो इसके क्षेत्रफल में हुई वृद्धि ज्ञात करें।

- (A) 86%
- (B) 96%
- (C) 92%
- (D) 90%

Answer: B

74. $5 \text{ of } 8 - 6 + [(27 - 3) \div 6 - 4]$ का मान ज्ञात कीजिए।

- (A) 26
- (B) 34
- (C) 54
- (D) 19

Answer: B

75. $(7 + 3\sqrt{5})(7 - 3\sqrt{5})$ का वर्गमूल ज्ञात कीजिए।

- (A) $3\sqrt{5}$
- (B) 2
- (C) 4
- (D) $\sqrt{5}$

Answer: B

76. निर्देश : निम्नलिखित प्रश्नों में दिए गए विकल्पों में से

www.careercenter360.com

Dharmshala Road, Sasaram - 821115

9430206005

The Path to Success
CAREER CENTRE
DISCIPLINE
SACRIFICE
THE PATH TO SUCCESS
FOCUS
CONFIDENCE
FOR SSC RAILWAY EXAMINATIONS

वह शब्द चुनिए, जो दिए गए शब्द के अक्षरों का प्रयोग करके नहीं बनाया जा सकता।

ENDEAVOUR

- (A) DROVE
- (B) DEVOUR
- (C) DROWN
- (D) ROUND

Answer: C

77. शब्द **BREAKING** के अक्षरों को वर्णानुक्रम करने

के बाद आरंभ से इस शब्द के कितने अक्षरों के स्थान अपरिवर्तित रहेंगे

- (A) कोई नहीं
- (B) 1
- (C) 2
- (D) 3
- (E) 3 से अधिक

Answer: C

78. "EXPERIMENT" शब्द में अक्षरों के ऐसे कितने जोड़े हैं जितने की वर्णमाला के कम में होते हैं ?

- (A) कोई नहीं
- (B) 1
- (C) 2
- (D) 3
- (E) 3 से अधिक

Answer: C

79. उस विकल्प का चयन कीजिए, जिसका पांचवें अक्षर-समूह से वही संबंध है, जो दूसरे अक्षर-समूह का पहले अक्षर-समूह से है और चौथे अक्षर-समूह का तीसरे अक्षर-समूह से है।

VTZX : NLRP :: MJVQ : EBNI :: PNTR : ?

- (A) HFLJ
- (B) GFLJ
- (C) FHJL
- (D) FGJL

Answer: A

80. उस विकल्प का चयन कीजिए, जिसका पांचवें पद से वही संबंध है, जो दूसरे पद का पहले पद से है, और चौथे पद का तीसरे पद से है।

Rahul : 12 :: Zenus : 17 : Vinas : ?

- (A) 14
- (B) 13
- (C) 15
- (D) 11

Answer: B

81. उस विकल्प का चयन करें, जिसका तीसरे शब्द के साथ वही संबंध है, जो दूसरे शब्द का पहले शब्द से है।

जल : प्यास :: भोजन : ?

- (A) खाना
- (B) होटल
- (C) पकाना
- (D) भूख

Answer: D

82. दिए गए संख्या-युग्मों में से प्रत्येक में, दूसरी संख्या, पहली संख्या पर एक निश्चित गणितीय संक्रिया करके प्राप्त की जाती है। निम्नलिखित में से तीन संख्या-युग्म एक समान पैटर्न का पालन करते हैं, और इस प्रकार एक समूह बनाते हैं। उस संख्या-युग्म का चयन करें, जो उस समूह से संबंधित नहीं है।

- (A) 216 : 729
- (B) 64 : 1331
- (C) 343 : 1000
- (D) 125 : 512

Answer: B

83. चार अक्षर-समूह दिए गए हैं, जिनमें से तीन किसी तरह से संगत हैं और एक असंगत है। असंगत का चयन कीजिए।

- (A) KNF
- (B) JMF
- (C) UXQ
- (D) PSL

Answer: A

84. दिए गए चार रंगों में से, तीन किसी तरह से संगत हैं और एक असंगत है। असंगत का चयन करें।

- (A) सफेद
(B) केसरिया
(C) हरा
(D) काला

- (B) sa mi ve
(C) kh co sa
(D) mi ne co

Answer: D

85. यदि किसी कूट भाषा में 'बावर्ची' को 'गिलास', 'गिलास' को 'कप', 'कप' को 'कूल' और 'कूल' को 'अमीर' लिखा जाता है, तो भोजन कौन बनाता है?

- (A) गिलास
(B) रसोइया
(C) अमीर
(D) कप

Answer: A

86. एक निश्चित कूट भाषा में, 'CHERRY' को '6-16-10-36-36-50' लिखा जाता है, और 'GRAPES' को '14-36-2-32-10-38' लिखा जाता है। उसी कूट भाषा में 'LITCHI' को किस प्रकार लिखा जाएगा?

- (A) 24-18-40-6-16-18
(B) 24-16-40-6-18-16
(C) 26-18-38-6-16-18
(D) 26-18-40-6-16-18

Answer: A

87. एक निश्चित कूट भाषा में, यदि 'COMPUTER' को 'RETPUMOC' लिखा जाता है, 'NOTEBOOK' को 'KOOEBTON' लिखा जाता है, तो उसी कूट भाषा में 'INTERNET' को किस प्रकार लिखा जाएगा?

- (A) TEENRINT
(B) TENREINT
(C) TENERNIT
(D) TENERTNI

Answer: D

88. एक निश्चित कूट भाषा में 'find my car' को 'mi co kh' लिखा जाता है, 'black vintage car' को 'co ne ve' लिखा जाता है, 'find black house' को 'ne kh sa' लिखा जाता है, (नोट: सभी कूट शब्द केवल दो अक्षर वाले कूटशब्द हैं) उसी कूट भाषा में 'my vintage house' को किस प्रकार लिखा जा सकता है?

- (A) ve kh ne

Answer: The Path to Success

89. विकल्पों में से उस शब्द का चयन करें, जिसे दिए गए शब्द के अक्षरों का उपयोग करके नहीं बनाया जा सकता है।

Enthusiastic

- (A) Static
(B) Choate
(C) Satin
(D) Thus

Answer: B

90. निम्नलिखित शब्दों को अंग्रेजी शब्दकोश में उनके क्रम में अनुसार व्यवस्थित करें।

- 1Bird
2Birth
3Brow
4Bat
5Blow
(A) 45321
(B) 41253
(C) 41523
(D) 43215

Answer: b

91. अक्षरों के उस संयोजन को चुनें, जो निम्नलिखित श्रृंखला में रिक्त स्थानों पर क्रमागत रखे जाने पर पुनरावृत्ति पैटर्न निर्मित करेगा।

QR_Q_R_Q_RRQ

- (A) QQRQ
(B) RQQR
(C) RQRQ
(D) QRQR

Answer: C

92. उस विकल्प का चयन करें, जिसे रिक्त स्थानों में क्रमिक रूप से भरे जाने पर पुनरावृत्ति पैटर्न निर्मित होगा।

c _ bba _ cab _ ac _ ab _ ac

- (A) b, c, a, c, b
(B) a, b, c, b, c
(C) a, c, b, c, b

(D) b, a, b, c, c

Answer: C

93. दिए गए पैटर्न को ध्यान से पढ़ें और दिए गए विकल्पों में से उस संख्या का चयन करें जो प्रश्न चिह्न

(?) के स्थान पर आ सकती है।

90	80	120
5	4	6
7	6	10
25	?	30

- (A) 23
- (B) 55
- (C) 26
- (D) 25

Answer: C

94. नीचे दिए गए पैटर्न का ध्यानपूर्वक अध्ययन करें और उस संख्या का चयन करें, जो इसमें प्रश्न चिह्न

(?) के स्थान पर आ सकती है।

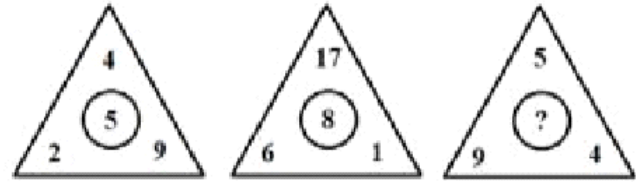
6	38	9	21	4	6
10	8	15	4	6	?

- (A) 16
- (B) 3
- (C) 1
- (D) 60

Answer: B

95. दिए गए पैटर्न का ध्यानपूर्वक अध्ययन करें और दिए गए विकल्पों में से उस संख्या का चयन करें, जो

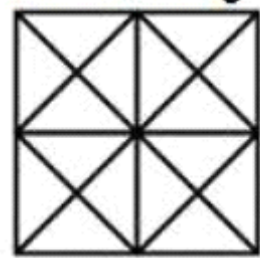
इसमें प्रश्नचिह्न (?) के स्थान पर आ सकती है।



- (A) 8
- (B) 2
- (C) 6
- (D) 4

Answer: C

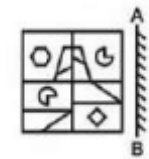
96. दी गई आकृति में वर्गों की कुल संख्या ज्ञात कीजिए।



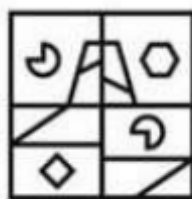
- (A) 6
- (B) 12
- (C) 8
- (D) 10

Answer: D

97. यदि एक दर्पण को रेखा AB पर रखा जाए, तो बिकल्प आकृतियों में से कौन-सी आकृति प्रश्न आकृति का सही प्रतिबिंब होगी?



(A)

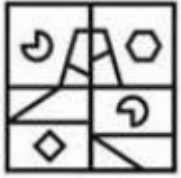


(B)

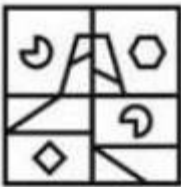
9430206005



(C)



(D)



Answer: D
98. उस विकल्प आकृति को चुनिए जिसमें दी गई आकृति निहित है। (घूर्णन की अनुमति नहीं है)



(A)




(B)



(C)



(D)




The Path to Success


CAREER CENTRE

Answer: B

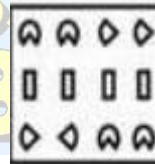
99. कागज के एक टुकड़े को मोड़ा जाता है और उसमें छेद किया जाता है, जैसा कि नीचे प्रश्न आकृतियों में दिखाया गया है। दी गई उत्तर आकृतियों में से बताइए कि खोले जाने के बाद वह किस उत्तर आकृति के समान दिखाई देगी?



(A)



(B)




(C)

Dipankhna Road, Sasaram - 821115

9430206005


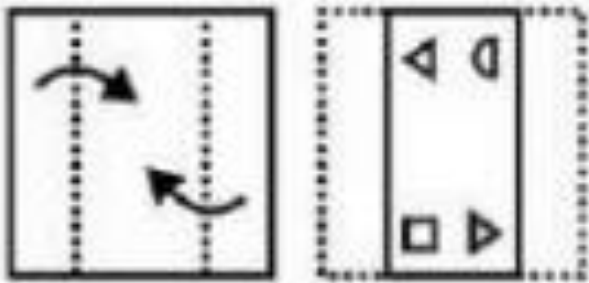
FOR SSC RAILWAY EXAMINATIONS



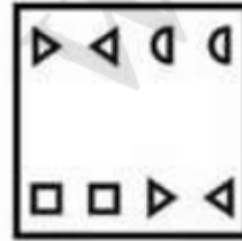
(D)

Answer: A

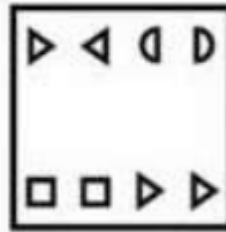
100. कागज के एक टुकड़े को मोड़ा जाता है और उसमें छेद किया जाता है, जैसा कि नीचे प्रश्न आकृतियों में दिखाया गया है। दी गई उत्तर आकृतियों में से बताइए कि खोले जाने के बाद वह किस उत्तर आकृति के समान दिखाई देगी?



(B)




(C)



(D)

Answer: B



(A)

www.career

Dharmshala Road, Sasaram - 821115

CONFIDENCE

FOCUS

FOR

SSC RAILWAY BANKING

9430206005